
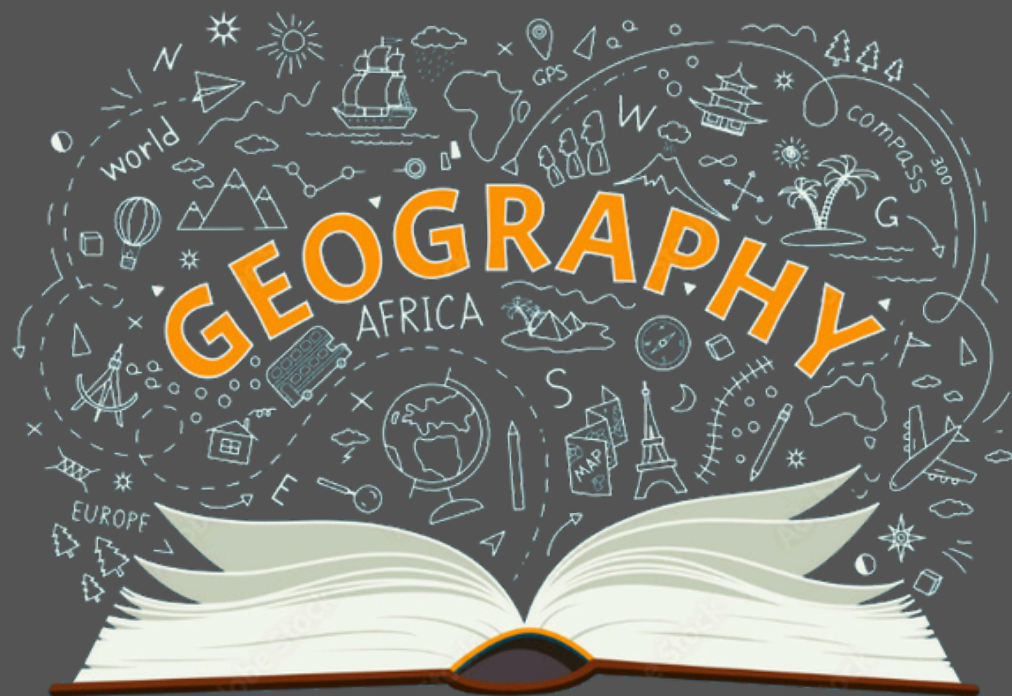


# GEOGROPHY PPT

सामान्य परिचय  
(General Introduction)



Q1. मैकमोहन लाइन क्या है ?

What is McMahon line?

- (a). भारत-चीन सीमा / India-China border
- (b). भारत-नेपाल सीमा / India-Nepal border
- (c). भारत-पाकिस्तान सीमा / India-Pakistan border
- (d). भारत-बांग्लादेश सीमा / India-Bangladesh border



Q2. डूरंड लाइन किसके साथ भारत की सीमा निर्धारित करती थी ?

The Durand line determines the boundary of India with-

- (a). अफगानिस्तान / Afghanistan
- (b). बर्मा / Burma
- (c). नेपाल / Nepal
- (d). तिब्बत / Tibet



Q3. भारत और पाकिस्तान के बीच सीमा निर्धारित की गई थी—

The boundary between India and Pakistan was demarcated by-

- (a). डूरण्ड रेखा द्वारा / Durand line
- (b). मैकमोहन रेखा द्वारा / McMahon line
- (c). मैग्नीनॉट रेखा द्वारा / Maginot line
- (d). रेडक्लिफ रेखा द्वारा / Radcliff line



Q4. रेडक्लिफ लाइन सीमा निर्धारित करती है –

Radcliffe line defines boundary between-

- (a). उत्तर कोरिया एवं दक्षिण कोरिया के बीच / North Korea and South Korea
- (b). संयुक्त राज्य अमेरिका एवं कनाडा के बीच / U.S.A. and Canada
- (c). भारत एवं पाकिस्तान के बीच / India and Pakistan
- (d). भारत एवं चीन के बीच / India and China



Q5. निम्नलिखित में से कौन-सा स्थान 'भारत का ग्रीनविच' कहा जाता है ?

Which one of the following places is called 'Greenwich of India'?

- (a). रोहतक / Rohtak
- (b). अवंती / Avanti
- (c). उज्जैन / Ujjain
- (d). कुरुक्षेत्र / Kurukshetra



Q6. किसी जगह का स्थानीय समय 6.00 प्रातः है, जबकि ग्रीनविच मीन टाइम (जी.एम.टी.) 3.00 प्रातः है। उस जगह की देशान्तर (Longitude) रेखा क्या होगी ?

The local time of any place is 6.00 a.m.while the Greenwich Mean Time (GMT) is 3.00 a.m.What will be the longitude line of that place?

- (a).  $45^{\circ}$  पश्चिम /  $45^{\circ}$  West
- (b).  $45^{\circ}$  पूर्व /  $45^{\circ}$  East
- (c).  $120^{\circ}$  पूर्व /  $120^{\circ}$  East
- (d).  $120^{\circ}$  पश्चिम /  $120^{\circ}$  West



Q7. भारत ने नई सहस्रताब्दी के सूर्योदय की पहली किरण निम्नलिखित में से किस देशान्तर (Meridian) पर देखी ?

Along which one of the following meridians did India experience the first light of the sunrise of the new millennium?

- (a).  $2^{\circ}30'$  पश्चिम /  $2^{\circ}30'$  West
- (b).  $82^{\circ}30'$  पूर्व /  $82^{\circ}30'$  East
- (c).  $92^{\circ}30'$  पश्चिम /  $92^{\circ}30'$  West
- (d).  $92^{\circ}30'$  पूर्व /  $92^{\circ}30'$  East



Q8. निम्न कथनों पर विचार कीजिए—

1. जबलपुर की देशान्तर रेखा इन्दौर व भोपाल की देशान्तर रेखाओं के बीच है ।

2. औरंगाबाद का अक्षांश बड़ोदरा व पुणे के अक्षांशों के बीच है ।

3. बंगलौर की अवास्थिति चेन्नई की तुलना में अधिक दक्षिणावर्ती है ।

इनमें कौन-सा/से कथन सही है/हैं ?

Consider the following statements:

1. Longitude of Jabalpur's location is between those of Indore and Bhopal

2. Latitude of Aurangabad's location is between those of Vadodara and Pune/

3. Bangalore is situated more southward than Chennai./

Which of these statements is/are correct?

(a). 1 और 3 / 1 and 3

(b). केवल 2 / Only

2

(c). 2 और 3 / 2 and 3

# सामान्य परिचय (General Introduction)



(d). 1, 2 और 3 / 1, 2 and 3



Q9. सिक्किम से गुजरने वाला अक्षांश निम्नलिखित में से किस एक से भी होकर गुजरता है ?  
The latitudes that pass through Sikkim also pass through-

- (a). राजस्थान / Rajasthan
- (b). पंजाब / Punjab
- (c). हिमाचल प्रदेश / Himachal Pradesh
- (d). जम्मू-कश्मीर / Jammu & Kashmir



Q10. भारत का सुदूर दक्षिण में 'इंदिरा प्वाइंट' निम्नलिखित में से कहाँ स्थित है ?

The southernmost point of India, Indira Point is located in-

- (a). तमिलनाडु / Tamilnadu
- (b). छोटा निकोबार / Little Nicobar
- (c). बड़ा निकोबार / Great Nicobar
- (d). कार निकोबार द्वीप / Car Nicobar Island



Q11. भारत का सुदूरस्थ दक्षिणी बिन्दु है -

The far southern most point of India is-

- (a). कन्याकुमारी / Kanyakumari
- (b). रामेश्वरम् / Rameshwaram
- (c). इंदिरा प्वाइंट / Indira Point
- (d). प्वाइंट कालीमेर / Point Calimere



Q12. भारत में सबसे पहले निम्नलिखित में से किस राज्य में सूरज दिखाई देता है ?

In which of the following states of India the sun appears first?

- (a). मिजोरम / Mizoram
- (b). असोम / Assam
- (c). अरुणाचल प्रदेश / Arunachal Pradesh
- (d). नागालैंड / Nagaland



Q13. भारत के राज्यों का निम्नलिखित में से कौन-सा एक युग्म, सबसे पूर्वी और सबसे पश्चिमी राज्य को इंगित करता है ?

Which one of the following pairs of States of India indicates the easternmost and westernmost State?

- (a). असोम और राजस्थान / Assam and Rajasthan
- (b). अरुणाचल प्रदेश और राजस्थान / Arunachal Pradesh and Rajasthan
- (c). असोम और गुजरात / Assam and Gujarat
- (d). अरुणाचल प्रदेश और गुजरात / Arunachal Pradesh and Gujarat

Q14. भारत का सुदूर पश्चिम का बिन्दु है -

The far west point of India is in-

- (a).  $68^{\circ} 7'$  पश्चिम, गुजरातमें /  $68^{\circ} 7'$  West, Gujarat
- (b).  $68^{\circ} 7'$  पश्चिम, राजस्थानमें /  $68^{\circ} 7'$  West, Rajasthan
- (c).  $68^{\circ} 7'$  पूर्व, गुजरातमें /  $68^{\circ} 7'$  East, Gujarat
- (d).  $68^{\circ} 7'$  पूर्व, राजस्थानमें /  $68^{\circ} 7'$  East, Rajasthan



Q15. गुजरात के सबसे पश्चिमी गाँव और अरुणाचल प्रदेश के सबसे पूर्वी छोर पर स्थिति वालांग के समय में कितने घंटे का अन्तराल होगा—

What will be the difference of time in hours between the most western village of Gujarat and Walong located at the most eastern end of Arunachal Pradesh?

- (a). 1 घंटा / 1 hour
- (b). 2 घंटा / 2 hour
- (c). 3 घंटा / 3 hour
- (d). 1/2 घंटा / 1/2 hour



Q16. यदि अरुणाचल प्रदेश में तिरप (TIRAP) में सूर्योदय 5.00 बजे प्रातः (IST) पर होता है, तो गुजरात में काण्डला में सूर्योदय किस समय (IST) पर होगा ?

5.00 am (IST), then what time (IST) the Sun will rise in Kandla in Gujarat?

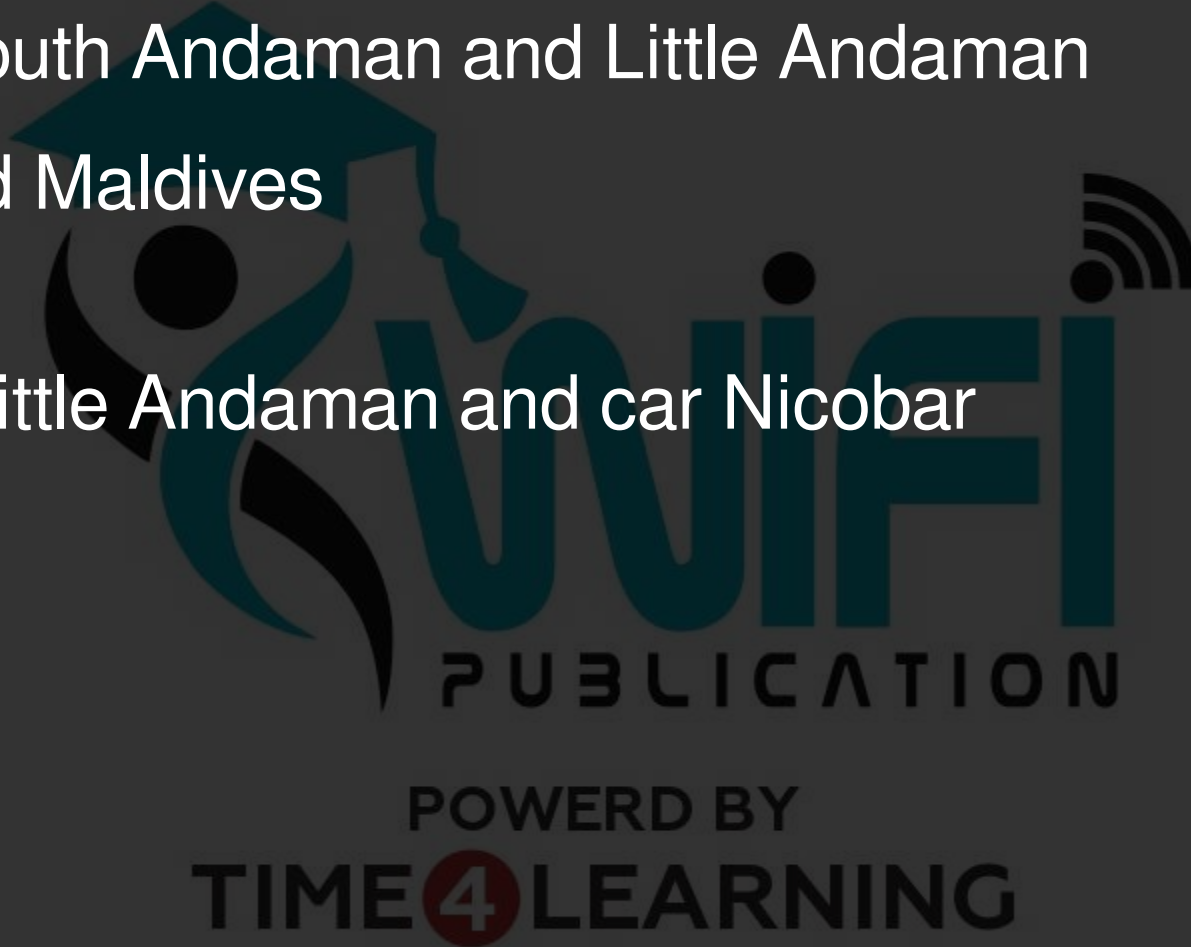
- (a). लगभग 5.30 प्रातः / About 5:30 a.m.
- (b). लगभग 6.00 प्रातः / About 6:00 a.m.
- (c). लगभग 7.00 प्रातः / About 7:00 a.m.
- (d). लगभग 7.30 प्रातः / About 7:30 a.m.



Q17. डंकन जलसन्धि किसके बीच स्थित है-

Duncan passage is situated between

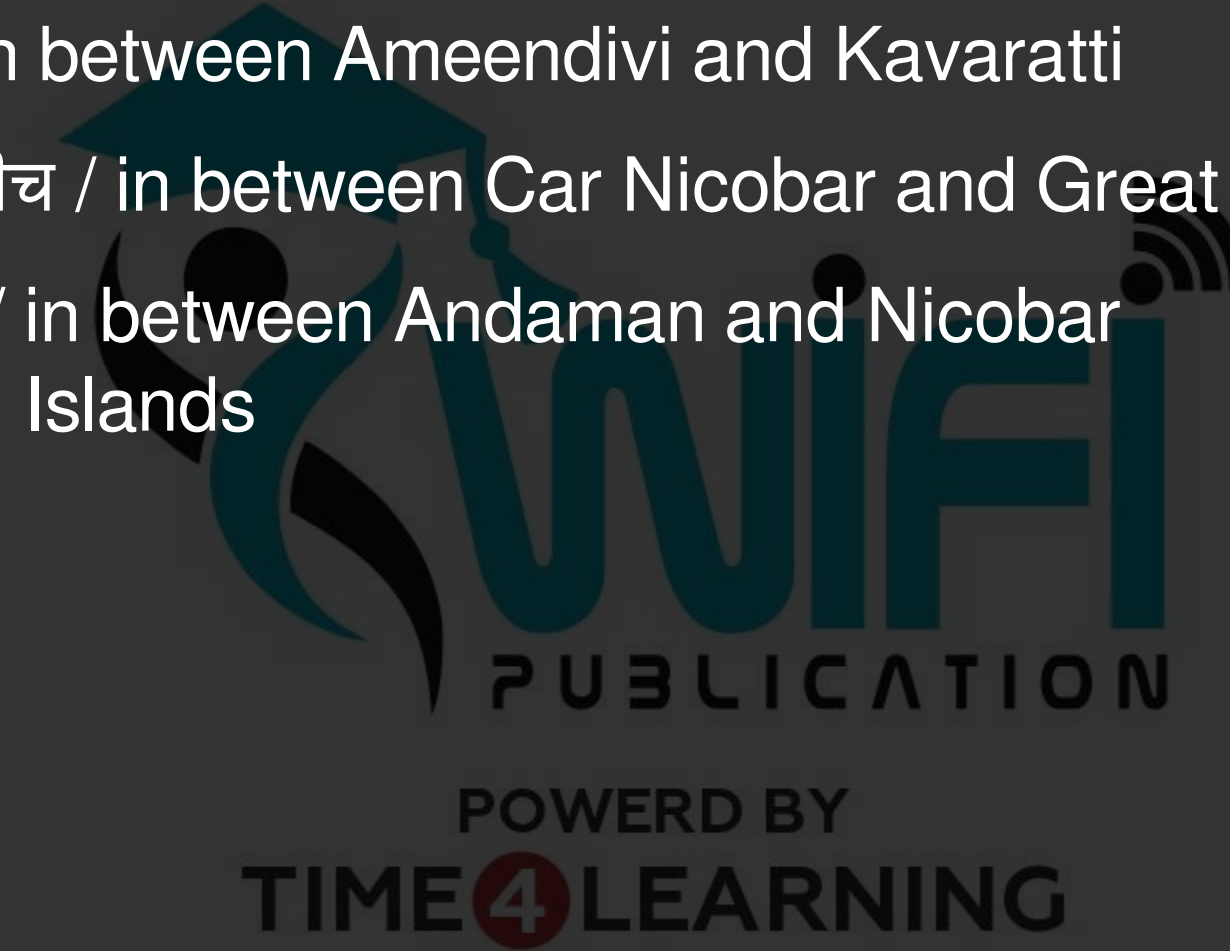
- (a). मिनिक्ॉय और अमीनदीव / Minicoy and Amindiv
- (b). दक्षिण अंडमान और छोटा अंडमान / South Andaman and Little Andaman
- (c). मिनिक्ॉय और मालदीव / Minicoy and Maldives
- (d). लिटिल अंडमान और कार निकोबार / Little Andaman and car Nicobar



Q18. नाइन डिग्री चैनल अविस्थित है-

The Nine Degree Channel is located-


- (a). कवरत्ती तथा मिनीकाय के बीच / in between Kavaratti and Minicoy
- (b). अमीनदीवी तथा कावारत्ती के बीच / in between Ameendivi and Kavaratti
- (c). कारनिकोबार तथा ग्रेट निकोबार के बीच / in between Car Nicobar and Great Nicobar
- (d). अंडमान तथा निकोबार द्वीपों के बीच / in between Andaman and Nicobar Islands



Q19. पटना का स्थानीय समय -

The local time of Patna is-

- (a). भारतीय मानक समय से आगे है / Ahead than Indian Standard Time
- (b). वही है जो भारतीय मानक समय है / Same as Indian Standard Time
- (c). भारतीय मानक समय से पीछे है / Behind than Indian Standard Time
- (d). भारतीय मानक समय से सम्बन्धित नहीं है / Not related to Indian Standard Time



Q20. भारतीय प्रामाणिक समय (I.S.T.) एवं ग्रीनविच माध्य समय (G.M.T.) में अन्तर पाया जाता है  
The difference between Indian Standard Time and Greenwich Mean Time is of-

- (a).  $+4\frac{1}{2}$ घंटे /  $+ 4\frac{1}{2}$  hours
- (b).  $+5\frac{1}{2}$ घंटे /  $+ 5\frac{1}{2}$  hours
- (c).  $-5\frac{1}{2}$  घंटे /  $-5\frac{1}{2}$  hours
- (d).  $-4\frac{1}{2}$ घंटे /  $-4\frac{1}{2}$  hours



Q21. भारतीय मानक समय की देशान्तर रेखा ( $8^{\circ}30'$ ) किस नगर से होकर गुजरती है ?

The longitude line ( $8^{\circ}30'$ ) of Indian Standard Time passes through which city?

- (a). नागपुर / Nagpur
- (b). दिल्ली / Delhi
- (c). पटना / Patna
- (d). इलाहाबाद / Allahabad



Q22. निम्नलिखित में से कौन सा एक स्थान भारतीय मानक समय याम्योत्तर के सबसे नजदीक स्थित है ?  
Which one of the following place is located nearest to the Indian Standard Time meridian?

- (a). बिलासपुर / Bilaspur
- (b). फैजाबाद / Faizabad
- (c). कोरापुट / Koraput
- (d). मिर्जापुर / Mirzapur



Q23. भारतीय मानक समय की याम्योत्तर नहीं गुजरती है –

The Indian Standard Time meridian does not pass through-

- (a). आन्ध्रप्रदेशसे / Andhra Pradesh
- (b). छत्तीसगढ़से / Chhattisgarh
- (c). महाराष्ट्रसे / Maharashtra
- (d). उत्तरप्रदेशसे / Uttar Pradesh



Q24. यदि भारतीय मानक समय याम्योत्तर पर मध्याह्न है तो  $0^\circ$  पूर्वी देशान्तर पर स्थानीय समय क्या होगा ?  
If India has meridian standard time, then what will be the  $0^\circ$  East longitude local time?

- (a). 09.30 / 9.3
- (b). 14.30 / 14.3
- (c). 17.30 / 17.3
- (d). 20.00 / 20



Q25. निम्नलिखित देशांतरों में कौन-सा भारत की 'प्रामाणिक मध्याह्न रेखा' कहलाता है ?

Which of the following longitudes is known as 'Standard Meridian' in India?

- (a).  $87^{\circ}30'$  पूर्वी /  $87^{\circ} 30'E$
- (b).  $85^{\circ}30'$  पूर्वी /  $85^{\circ} 30'E$
- (c).  $84^{\circ}30'$  पूर्वी /  $84^{\circ} 30'E$
- (d).  $82^{\circ}30'$  पूर्वी /  $82^{\circ} 30'E$



Q26. निम्नलिखित द्वीपों के युग्मों में से कौन-सा एक 'दस अंश जलमार्ग' (Ten Degree Channel) द्वारा आपस में पृथक किया जाता है ?

Which one of the following pairs of islands is separated from each other by the 'Ten Degree Channel'?

- (a). अंडमान एवं निकोबार / Andaman and Nicobar
- (b). निकोबार एवं सुमात्रा / Nicobar and Sumatra
- (c). मालदीव एवं लक्षद्वीप / Maldives and Lakshadweep
- (d). सुमात्रा एवं जावा / Sumatra and Java



Q27. 800 पूर्वी देशान्तर और कर्क-रेखा का मिलन बिन्दु है-

The meeting point of 80° East longitude and tropic of cancer is-

- (a). आन्ध्रप्रदेशमें / Andhra Pradesh
- (b). महाराष्ट्रमें / Maharashtra
- (c). उत्तरप्रदेशमें / Uttar Pradesh
- (d). मध्यप्रदेशमें / Madhya Pradesh



Q28. कौन सा महत्वपूर्ण अक्षांश भारत को दो लगभग बराबर भागों में विभाजित करता है ?  
Which important latitude divides India in almost two equal parts?

- (a).  $23^{\circ}30'$  दक्षिण /  $23^{\circ}30'$  South
- (b).  $33^{\circ}30'$  उत्तर /  $33^{\circ}30'$  North
- (c). 0 / 0
- (d).  $23^{\circ}30'$  उत्तर /  $23^{\circ}30'$  North



Q29. कर्क रेखा गुजरती है-

Tropic of cancer passes through:

- (a). मध्यप्रदेशसे / Madhya Pradesh
- (b). त्रिपुरासे / Tripura
- (c). मिजोरमसे / Mizoram
- (d). उपर्युक्त सभी / All of the above

